

Szkice rozwiązań zadań konkursowych

1. Udowodnij, że każdą liczbę całkowitą większą od 5 można przedstawić w postaci sumy liczby pierwszej i liczby złożonej.

Szkic rozwiązania

Zauważmy, że jeżeli $n \geq 6$ jest liczbą parzystą, to $n - 2$ jest liczbą parzystą większą od 2, a więc liczbą złożoną. Stąd otrzymujemy przedstawienie $n = 2 + (n - 2)$ liczby n jako sumy liczby pierwszej i liczby złożonej. Podobnie, jeśli $n \geq 6$ jest liczbą nieparzystą, to $n - 3$ jest liczbą parzystą większą od 2, a więc liczbą złożoną. Wobec tego $n = 3 + (n - 3)$ to szukane przedstawienie liczby n w postaci sumy liczby pierwszej i liczby złożonej.

2. Każdą liczbę całkowitą dodatnią pomalowano na pewien kolor. Okazało się, że dla każdej pary liczb całkowitych a, b większych od 1 liczby $a + b$ i ab są tego samego koloru. Wykaż, że wszystkie liczby większe od 4 zostały pomalowane tym samym kolorem.

Szkic rozwiązania

Niech n będzie dowolną liczbą całkowitą większą od 1. Zgodnie z warunkami zadania liczby $n + 3 = 2 + (n + 1)$ oraz $2(n + 1) = 2n + 2$ są tego samego koloru. Również liczby $2(n + 1) = 2n + 2$ oraz $2n \cdot 2 = 4n$ są tego samego koloru. Ponadto liczby $4n$ oraz $n + 4$ mają ten sam kolor. Łącząc powyższe obserwacje, dochodzimy do wniosku, że liczby $n + 3$ oraz $n + 4$ są tego samego koloru dla każdej liczby naturalnej $n > 1$. To oznacza, że wszystkie liczby większe od 4 pomalowano tym samym kolorem.

3. Dany jest czworokąt wypukły $ABCD$, w którym

$$\sphericalangle DAB + \sphericalangle ABC = 90^\circ.$$

Punkt M jest środkiem boku CD . Znając długości odcinków AD oraz BC , które wynoszą odpowiednio a oraz b , oblicz wartość wyrażenia $[ABM] - [DAM] - [BCM]$.

Uwaga. Symbol $[F]$ oznacza pole figury F .

Szkic rozwiązania

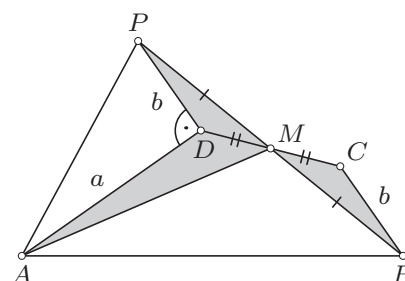
Niech P będzie punktem symetrycznym do punktu B względem punktu M (rys. 1). Wówczas $[ABM] = [APM]$, gdyż trójkąty te mają wspólną wysokość poprowadzoną z wierzchołka A oraz równe podstawy BM i PM . Ponadto $[BCM] = [PDM]$, gdyż trójkąty te są przystające (cecha bok-kąt-bok). Stąd wynika, że

$$\begin{aligned} [ABM] - [DAM] - [BCM] &= \\ &= [APM] - [DAM] - [PDM] = [ADP]. \end{aligned}$$

Zauważmy, że $DP = BC = b$ oraz

$$\begin{aligned} \sphericalangle ADP &= 360^\circ - \sphericalangle MDA - \sphericalangle PDM = \\ &= 360^\circ - \sphericalangle CDA - \sphericalangle BCD = \sphericalangle DAB + \sphericalangle ABC = 90^\circ, \end{aligned}$$

skąd wniosek, że $[ADP] = \frac{1}{2} \cdot AD \cdot DP = \frac{1}{2} ab$.



rys. 1

Honorowy patronat Małżonki Prezydenta RP Pani Anny Komorowskiej

4. Dane są takie dodatnie liczby całkowite a i b , że liczby

$$a^2 + 2b + 1 \quad \text{oraz} \quad b^2 + 2a + 1$$

są kwadratami pewnych liczb naturalnych. Wykaż, że $a = b$.

Szkic rozwiązania

Przypuśćmy, że $a \neq b$. Bez straty ogólności możemy przyjąć, że $a < b$. Wówczas

$$b^2 < b^2 + 2a + 1 < b^2 + 2b + 1 = (b+1)^2.$$

To oznacza, że liczba $b^2 + 2a + 1$ znajduje się między kwadratami dwóch kolejnych liczb naturalnych, więc sama nie może być kwadratem liczby naturalnej. Otrzymana sprzeczność dowodzi, że $a = b$.

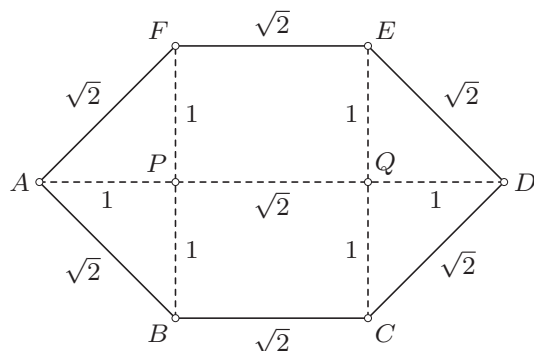
5. Czy istnieje wielościan wypukły, którego dokładnie jedna ściana nie jest wielokątem foremnym? Odpowiedź uzasadnij.

Szkic rozwiązania

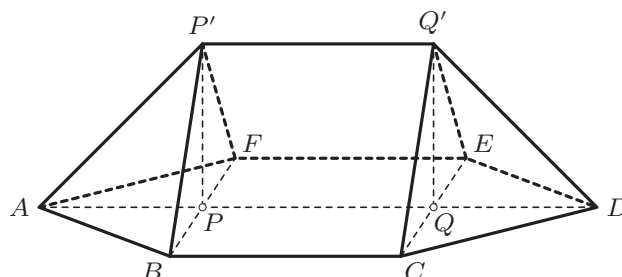
Taki wielościan istnieje, podamy jego konstrukcję.

Rozważmy płaszczyznę π oraz zawarty w niej prostokąt $BCEF$, w którym $BC = \sqrt{2}$ oraz $CE = 2$. Zbudujmy na zewnątrz prostokąta $BCEF$ trójkąty prostokątne równoramienne ABF oraz CDE , których przeciwprostokątnymi są odpowiednio odcinki BF oraz CE . Wówczas $ABCDEF$ jest sześciokątem, którego każdy bok ma długość $\sqrt{2}$, ale nie wszystkie kąty wewnętrzne są równe (rys. 2).

Niech proste BF i CE przecinają odcinek AD odpowiednio w punktach P i Q oraz niech P' i Q' będą takimi punktami przestrzeni leżącymi po tej samej stronie płaszczyzny π , że $PP' = QQ' = 1$ oraz proste PP' i QQ' są prostopadłe do π . Udowodnimy, że wielościan \mathcal{W} o wierzchołkach A, B, C, D, E, F, P', Q' (rys. 3) spełnia warunki zadania.



rys. 2



rys. 3

Stosując twierdzenie Pitagorasa, bezpośrednio obliczamy, że każdy z odcinków FP' , AP' , BP' , CQ' , DQ' , EQ' ma długość $\sqrt{2}$, a także $P'Q' = PQ = \sqrt{2}$. Stąd wniosek, że każdy z trójkątów ABP' , FAP' , CDQ' , EDQ' jest równoboczny, a każdy z prostokątów $BCQ'P'$, $EFP'Q'$ jest kwadratem. To oznacza, że każda ze ścian wielościanu \mathcal{W} oprócz $ABCDEF$ jest wielokątem foremnym.

Honorowy patronat Małżonki Prezydenta RP Pani Anny Komorowskiej

MINISTERSTWO
EDUKACJI
NARODOWEJ



Stowarzyszenie
na rzecz Edukacji
Matematycznej

